

Диагностическая работа для учащихся 7 классов

МАТЕМАТИЧЕСКАЯ ГРАМОТНОСТЬ

ИНСТРУКЦИЯ для УЧАЩИХСЯ

Работа состоит из четырех заданий, каждое задание описывает одну ситуацию. В каждом задании два вопроса. Таким образом, всего в работе 8 вопросов, на которые вам необходимо будет дать ответ.

На выполнение работы отводится 40 минут.

Внимательно читайте описание ситуации, вчитывайтесь в условие, рассматривайте иллюстрации.

Обращайте внимание на то, в какой форме требуется дать ответ.

При ответе на вопрос с выбором ответа нужно указать все варианты ответа, которые вы считаете верными, поставив знак «✓».

При ответе на вопрос с кратким ответом записывайте ответ в специально отведенном месте после слова «Ответ».

В работе есть вопросы, к которым нужно не только дать ответ, но и записать обоснование, привести решение. В этих случаях написано: «Запишите ответ и приведите соответствующее обоснование», указано место для ответа и для вашего решения.

Задания выполняйте последовательно. Если не удаётся сразу найти ответ на поставленный вопрос, пропустите его и переходите к следующему. Если останется время, вы сможете вернуться к пропущенным заданиям или отдельным вопросам.

И не забывайте делать проверку полученного ответа.

Желаем успеха!

Выполните задания 1-4.

Задание 1. «Тормозной путь». Тормозным путём называется расстояние, которое прошло транспортное средство от момента нажатия на педаль тормоза до полной остановки. При движении автомобиля его тормозной путь зависит от его скорости, а также от состояния дорожного полотна, которое зависит от погодных условий.



Вопрос 1/2. Сотрудник дорожно-патрульной службы проводит занятие с водителями, нарушившими на дороге скоростной режим. Он просит их, используя данные представленные на диаграмме, выбрать в таблице верные утверждения.



Какие утверждения являются верными? Поставьте V.

Утверждение	Верно
1) Чем хуже состояние дороги, тем короче тормозной путь	
2) Чем больше начальная скорость, тем длиннее тормозной путь на сухом асфальте	
3) Длина тормозного пути на мокром асфальте более чем в 1,5 раза больше длины тормозного пути на сухом асфальте	

Вопрос 2/2. На занятиях с будущими водителями изучается, от каких параметров зависит тормозной путь автомобиля.



Для расчёта ориентировочной длины тормозного пути легкового автомобиля на практике используют формулу:

$$S = \frac{v^2}{254 \cdot k}, \text{ где}$$

S – тормозной путь (в метрах),

v – скорость автомобиля в момент начала торможения (в км/ч),

k – коэффициент сцепления шин с дорогой.

Эта формула удобна тем, что скорость в ней подставляется в км/ч, а длина выражается в метрах.

Значения k – коэффициента сцепления шин с дорогой приведены в таблице:

<i>Особенности движения автомобиля</i>	<i>Значение k</i>
по сухому асфальту	0,7
по мокрой дороге	0,4
по укатанному снегу	0,2
по обледенелой дороге	0,1

Автомобиль, двигавшийся по мокрой дороге со скоростью 60 км/ч, начал торможение.

Вычислите его тормозной путь, результат округлите до целого.

Ответ: _____

Задание 2. «Поездки на метро». В кассе метрополитена продают билеты на различное количество поездок (см. таблицу).

<i>Количество поездок</i>	1	2	20	40	60
<i>Стоимость билета, р.</i>	55	110	747	1494	1765

Билеты на одну и на две поездки действуют 5 дней с момента продажи (включая день продажи). Билеты на 20, 40, 60 поездок действуют 90 дней с момента продажи.

Вопрос 1/2. Лиза ездит на занятия в колледж на метро, поэтому купила билет на 40 поездок. Но поскольку Лиза заболела и не могла ездить на занятия некоторое время, она успела совершить только 36 поездок.



С учётом этого обстоятельства оправдала ли себя покупка билета на 40 поездок по сравнению с покупкой одноразовых билетов?

Запишите ответ и приведите соответствующее обоснование.

Ответ: _____

Обоснование: _____

Вопрос 2/2. Мама Лизы работает 5 дней в неделю и пользуется для поездки на работу и обратно метрополитеном. В другие дни она не пользуется метрополитеном.



Выгодно ли ей покупать билет на 60 поездок?


Запишите ответ и приведите соответствующее обоснование.

Ответ: _____

Обоснование: _____

Задание 3. «Бугельные подъемники». Для подъёма горнолыжников и сноубордистов к месту начала спуска используют различные типы горнолыжных подъёмников: гондольные, кресельные и бугельные

Бугельные подъёмники осуществляют подъём лыжников от нижней станции до верхней за счёт бугеля (перекладины) или тарелки, их вместимость – 1 или 2 человека.

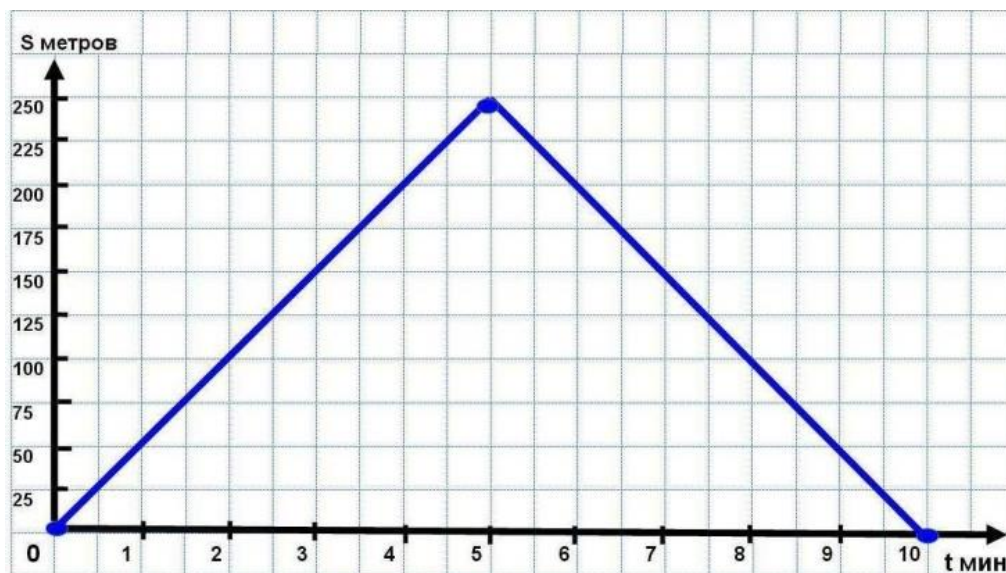


Характеристики двух бугельных подъёмников представлены в таблице.

Бугельный тип подъёмника	Длина трассы, м	Время подъёма, мин	Пропускная способность, чел./ч	Вместимость одного бугеля, чел.	
	А	250	5	600	1
	Б	180	4	360	2

Вопрос 1/2. На рисунке изображён график зависимости расстояния между бугелем и нижней станцией подъемника от времени движения.

По горизонтальной оси отложено время движения бугеля (в минутах), по вертикальной оси – расстояние от бугеля до нижней станции (в метрах).



Посмотрите на график и ответьте на вопросы:

А) Какое расстояние будет между бугелем и нижней станцией через 3 минуты после начала подъёма?

Ответ: _____

Б) Для какого подъемника (А или Б) представлен график зависимости?

Ответ: _____


Вопрос 2/2. Пропускная способность подъёмника – это количество лыжников, которые могут подняться от нижней станции до верхней в течение одного часа.



Что необходимо знать из приведённого ниже списка, чтобы подсчитать пропускную способность подъёмника? Поставьте V:

Характеристика	
1) Длина трассы подъёмника	
2) Вместимость одного бугеля	
3) Время подъёма бугеля с нижней станции до верхней	
4) Общее количество бугелей на подъёмнике	
5) Перепад высот между нижней и верхней станциями	

Задание 4. «Покупка телевизора». Телевизоры различаются не только моделями, но и длиной диагонали экрана. Традиционно диагональ экрана измеряют в дюймах: 1 дюйм \approx 2,54 см.



Вопрос 1/2. Семья Петровых решила купить телевизор и повесить его в гостиной в нише круглой формы. Диаметр ниши равен 1,6 м.




В магазине им предложили современные безрамочные телевизоры с диагоналями экранов: 50, 55, 60, 65, 70, 80, 85, 90 и 100 дюймов.

Из предложенных в магазине вариантов выберите телевизор, имеющий наибольшее значение диагонали экрана, подходящее Петровым.

Запишите ответ.

Ответ: _____

Вопрос 2/2. Семья Ивановых решила купить телевизор и повесить его на кухне в нише шкафа. Размер ниши: ширина – 80 см, высота – 60 см.



Сможет ли семья Ивановых разместить в нише широкоформатный телевизор с диагональю экрана 37 дюймов, если его высота равна 18 дюймам?

Запишите ответ и приведите соответствующее обоснование.

Ответ: _____

Обоснование: _____

